

Pracovní list

1. Do slepé mapy ČR vyznač Teplice.



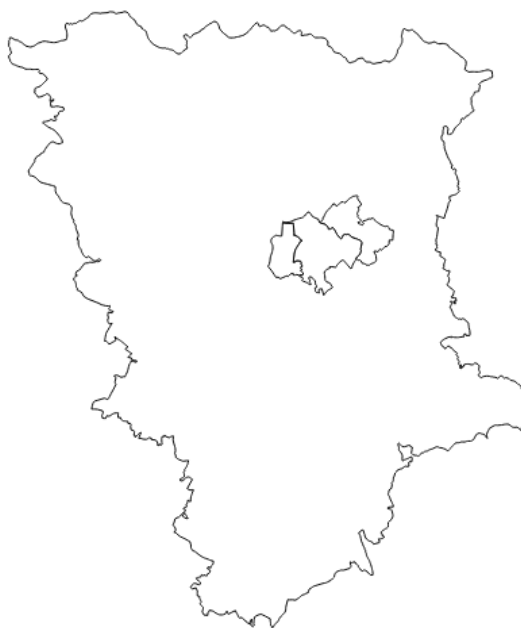
2. Vytvoř logické dvojice.

A 14. století	1 nejstarší doklady o pobytu lidí
B koncem 13. století	2 nález keltských mincí
C okolo roku 1160	3 založení ženského benediktinského kláštera
D 2. - 1. st. př.n.l.	4 výstavba města
E 5. – 3. tis. př.n.l.	5 lázně
A____,B____,C____,D____,E____	

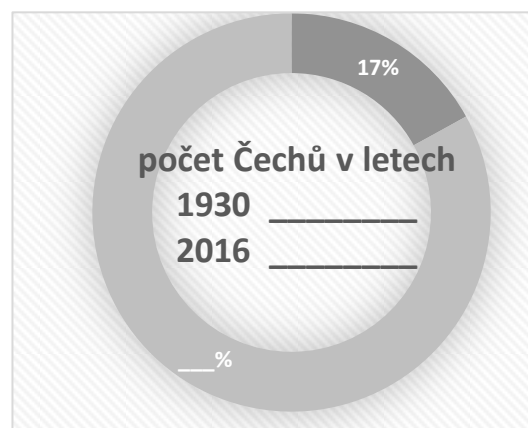
3. Podtrhni, které známé osobnosti nebyli mezi návštěvníky teplických lázní.
Lomonosov, Humboldt, Schiller, Goethe, Bethowen, Chopin, Liszt, Strauss, Wagner, Janáček

MUNDANI

4. V mapě teplického okresu barevně vyznač městské části:
Teplice - červeně
Trnovany - modře
Řetenice – zeleně



5. V roce 1930 v Teplicích žilo přes 30 000 obyvatel, z toho bylo 17% Čechů. V současnosti žije v Teplicích přes 50 000 obyvatel. Vypočti, kolik Čechů (počet) zde žilo v roce 1930 a v současnosti, kdybychom předpokládali stejné procentuální zastoupení i dnes.
Výpočet pro počet Čechů v roce 1930:




Výpočet pro hypotetický počet Čechů v současnosti:

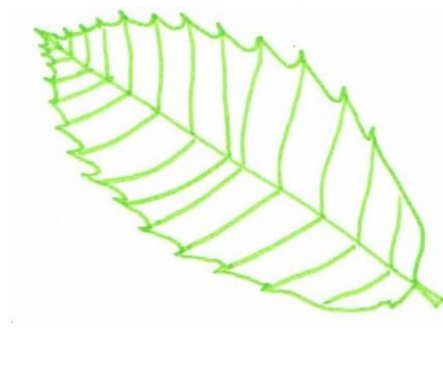


MUNDANI


6. K obrázkům napiš jméno rostliny.




1. _____



2. _____



3. _____



4. _____



5. _____



6. _____

MUNDANI

7. Ke skupinám živočichů doplň jejich zástupce, kteří žijí na území Zámecké zahrady:

savci _____

ptáci _____

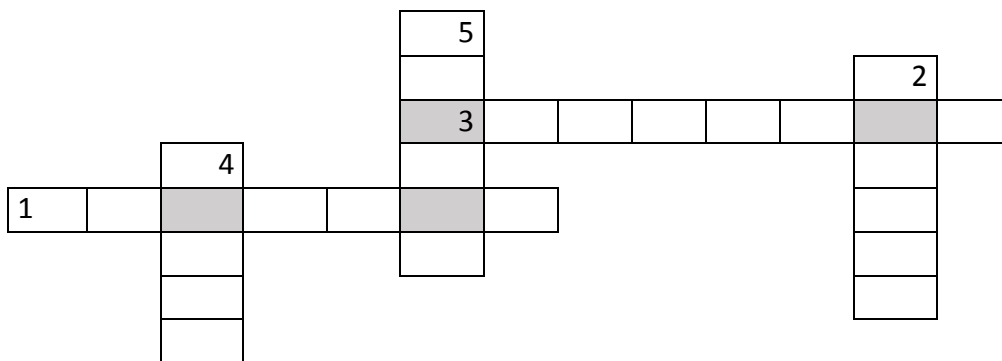
8. Z osmisměrky vyškrtej jarní byliny

C	H	E	P	P	A	F	O	N	O
E	V	Z	O	R	S	E	E	C	A
T	F	T	J	Y	A	H	M	P	K
A	K	J	A	S	S	R	O	L	V
V	L	G	H	K	A	A	R	I	I
I	U	O	O	Y	N	C	S	C	N
Ř	D	K	D	Ř	K	H	E	N	M
K	X	I	N	N	A	O	J	Í	Y
K	H	B	Í	Í	E	R	L	K	D
K	W	F	K	K	M	T	M	G	M

pryskyřník
jahodník
dymnivka
křivatec
sasanka
plicník
hrachor
orsej

9. Vylušti křížovku.

1. Růžově až fialově kvetoucí jarní bylina.
2. Bíle kvetoucí strom pocházející z Číny.
3. Strom s rozvětvenými trny, pochází ze Severní Ameriky
4. Živoucí fosilie, jejíž listy obsahují látky roztahující periferní cévy, čímž napomáhá zahřívání končetin a prokrvení mozku.
5. Náš jediný původní jehličnatý strom, který na zimu opadává.



10. Doplň text vztahující se k historii zahrady.

Zámecká zahrada se rozkládá na ploše _____ ha. Uvnitř zahrady se nachází _____
a _____ rybník, jejichž plocha jsou _____ ha.

11. Vyber změny, které přineslo 18. století do zahrady.

a) Oranžérie

c) Voliéra

b) Záhony pro potřeby kuchyně

d) Bludiště

12. Doplň událost k uvedenému letopočtu

kolem roku 1160	-	_____
1278	-	_____
1463	-	_____
1600	-	_____
2. polovina 17. století	-	_____
30. léta 20. století	-	_____
70. léta 20. století	-	_____

Zdroj, autor: Gymnázium Teplice

